

**Društvo matematikov, fizikov  
in astronomov Slovenije**

Jadranska ulica 19  
1000 Ljubljana

# **Tekmovalne naloge DMFA Slovenije**

Društvo matematikov, fizikov in astronomov Slovenije dovoljuje shranitev v elektronski obliki, natis in uporabo gradiva v tem dokumentu **za lastne potrebe učenca/dijaka/študenta in za potrebe priprav na tekmovanje na šoli, ki jo učenec/dijak/študent obiskuje**. Vsakršno drugačno reproduciranje ali distribuiranje gradiva v tem dokumentu, vključno s tiskanjem, kopiranjem ali shranitvijo v elektronski obliki je prepovedano.

Še posebej poudarjamo, da **dokumenta ni dovoljeno javno objavljati na drugih spletnih straneh** (razen na [www.dmfa.si](http://www.dmfa.si)), dovoljeno pa je dokument hraniti na npr. spletnih učilnicah šole, če dokument ni javno dostopen.


### Naloge za 1. letnik

Čas reševanja: **180 minut**. Vsaka naloga sklopa A ima natanko en pravilen odgovor. V sklopu A bomo pravilni odgovor ovrednotili z dvema točkama, za nepravilni odgovor pa bomo eno točko odšteli. Odgovore sklopa A vpiši v levo preglednico, desno preglednico pusti prazno. Komisija bo pri vrednotenju odgovorov sklopa A upoštevala samo odgovore, zapisane v preglednico.

A1	A2	A3

B1	B2	B3

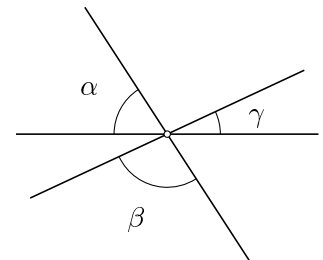
**A1.** Vsa tri darila prikazana na sliki imajo obliko kvadra z dolžinami robov 10 cm, 20 cm in 30 cm. Dolžine trakov, s katerimi so darila zavita, so od leve proti desni enake  $x$  cm,  $y$  cm in  $z$  cm, pri čemer je pentlja na vseh treh darilih enaka. Katera od naslednjih trditev je pravilna?



- (A)  $x = y = z$       (B)  $x > y > z$       (C)  $x = y > z$       (D)  $x < y < z$       (E)  $x > y = z$

**A2.** Polona želi narisati tri premice, ki se sekajo v isti točki (glej sliko), tako da bo za kote med njimi veljalo  $\beta = 2\alpha$  in  $\alpha = 3\gamma$ . Koliko stopinj mora biti velik kot  $\alpha$ ?

- (A) 18      (B) 36      (C) 50      (D) 54      (E) 60



**A3.** Koliko je vrednost izraza  $2019^3 - 3 \cdot 2019 \cdot 2018 - 2018^3$ ?

- (A) -1      (B) 0      (C) 1      (D) 2018      (E) 2019

**B1.** Poišči vsa naravna števila  $n$ , katerih kub je enak vsoti kvadratov treh ne nujno različnih deliteljev števila  $n$ .

**B2.** Dan je trikotnik  $ABC$ . Naj bosta  $D$  in  $E$  taki točki, ki ležita zaporedoma na poltrakah  $CA$  in  $CB$ , a ne na stranicah trikotnika  $ABC$ , da velja  $|AD| = |BE| = |AB|$ . Presečišče premic  $AE$  in  $BD$  označimo z  $G$ , središče trikotniku  $ABC$  včrtane krožnice pa z  $I$ . Dokaži, da premica  $GI$  poteka skozi razpolovišče stranice  $AB$ .

**B2.** Poišči vse pare realnih števil  $x$  in  $y$ , ki rešijo sistem enačb

$$\frac{y^3 + 15x^2}{y^4 - x^3} = \frac{y^2 + 15x}{y^3 - x^2},$$

$$\frac{1500y^3 + 4x^2}{9y^4 - 4} = \frac{1500y^2 + 4x}{9y^3 - 4}.$$

## Naloge za 2. letnik

Čas reševanja: 180 minut. Vsaka naloga sklopa A ima natanko en pravilen odgovor. V sklopu A bomo pravilni odgovor ovrednotili z dvema točkama, za nepravilni odgovor pa bomo eno točko odšteli. Odgovore sklopa A vpiši v levo preglednico, desno preglednico pusti prazno. Komisija bo pri vrednotenju odgovorov sklopa A upoštevala samo odgovore, zapisane v preglednico.

A1	A2	A3

B1	B2	B3

**A1.** Maja je v dva enaka kozarca nalila limonin sok, tako da je bil prvi kozarec napolnjen do  $\frac{1}{3}$ , drugi pa do  $\frac{2}{5}$ . Nato je v oba kozarca dolivala vodo, dokler nista bila polna. Nazadnje je oba kozarca izpraznila v večjo skledo, pri čemer se tekočina ni prelila čez rob sklede. Kolikšen del tekočine v skledi je limonin sok?

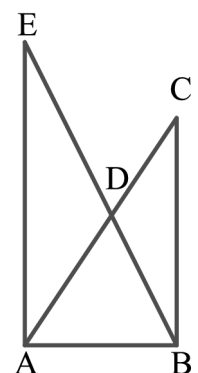
- (A)  $\frac{1}{8}$                       (B)  $\frac{3}{16}$                       (C)  $\frac{11}{30}$                       (D)  $\frac{11}{19}$                       (E)  $\frac{11}{15}$

**A2.** Daljici  $AE$  in  $BC$  na sliki sta vzporedni in pravokotni na daljico  $AB$ . Hkrati velja  $|AB| = 4$ ,  $|BC| = 6$  in  $|AE| = 8$ . Koliko je razlika med ploščinama trikotnikov  $ADE$  in  $BCD$ ?

- (A) 2                      (B) 4                      (C) 5                      (D) 8                      (E) 9

**A3.** David si je izmislil trimestno naravno število s tremi različnimi števki. Vsako števko tega števila je nadomestil s črko, da je dobil besedo  $ENA$ , ki predstavlja njegovo število. Opazil je, da za njegovo število velja  $c \cdot ENA = 2331$ , kjer je  $c$  neko naravno število. Koliko je vrednost števila  $c$ ?

- (A) 3                      (B) 7                      (C) 9                      (D) 21                      (E) 37



**B1.** Krožnici  $\mathcal{K}_1$  in  $\mathcal{K}_2$  s središčema  $O_1$  in  $O_2$  se od zunaj dotikata. Naj bo  $p$  skupna tangenta krožnic  $\mathcal{K}_1$  in  $\mathcal{K}_2$ , ki ne poteka skozi njuno dotikališče. Dokaži, da je  $p$  tangenta tudi krožnice s premerom  $O_1O_2$ .

**B2.** Ali obstaja tako praštevilo  $p$ , da velja  $p^2 + p + 1 = n^3$  za neko naravno število  $n$ ?



**B3.** Naj bo  $K$  končna podmnožica celih števil s  $k \geq 3$  elementi. Pravimo, da sta števili  $a, b \in K$  *povezani*, če in samo če obstajajo števila  $x_1, x_2, \dots, x_k$ , za katera velja:

- $\{x_1, x_2, \dots, x_k\} = K$ ,
- $x_1 = a, x_k = b$ ,
- $|x_i - x_{i+1}|$  je liho število za vsak  $i \in \{1, 2, \dots, k-1\}$ .

Dokaži, da v množici  $K$  obstajata dve števili, ki nista povezani.

### Naloge za 3. letnik

Čas reševanja: **180 minut**. Vsaka naloga sklopa A ima natanko en pravilen odgovor. V sklopu A bomo pravilni odgovor ovrednotili z dvema točkama, za nepravilni odgovor pa bomo eno točko odšteli. Odgovore sklopa A vpiši v levo preglednico, desno preglednico pusti prazno. Komisija bo pri vrednotenju odgovorov sklopa A upoštevala samo odgovore, zapisane v preglednico.

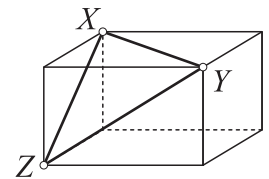
A1	A2	A3

B1	B2	B3

**A1.** Tadej je na tablo zapisal ulomek, različen od 0. Sara je števec Tadejevega ulomka povečala za 40 %, da je dobila nov ulomek. Za koliko odstotkov mora Katja zmanjšati imenovalca Sarnega novega ulomka, da bo dobila ulomek, katerega vrednost bo dvakrat tolikšna, kot je bila vrednost Tadejevega ulomka?

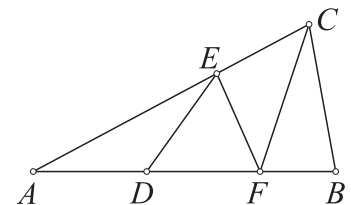
- (A) 25                      (B) 30                      (C) 40                      (D) 45                      (E) 50

**A2.** Dolžine diagonal mejnih ploskev kvadra so enake  $|XY| = 8$  cm,  $|YZ| = 9$  cm in  $|ZX| = \sqrt{55}$  cm (glej sliko). Koliko centimetrov je dolga telesna diagonal tega kvadra?



- (A)  $\sqrt{90}$                       (B) 10                      (C)  $\sqrt{120}$                       (D)  $\sqrt{200}$                       (E) 20

**A3.** Trikotnik  $ABC$  je razdeljen na 4 manjše trikotnike  $ADE$ ,  $DFE$ ,  $EFC$  in  $FBC$  z enakimi ploščinami (glej sliko). Koliko je razmerje dolžin  $|AF| : |DB|$ ?



- (A) 1 : 1                      (B) 9 : 8                      (C) 8 : 7                      (D) 7 : 6                      (E) 6 : 5

**B1.** Poišči vsa realna števila  $x$ , ki rešijo enačbo

$$6^{\log_{10} x} + x^{\log_{10} 6} = 72.$$

**B2.** Poišči vse polinome stopnje  $n \geq 1$ , ki imajo vse ničle racionalne, vsak izmed njihovih  $n + 1$  koeficientov pa je enak 1 ali  $-1$ .

**B3.** Dan je trikotnik  $ABC$ . Naj bosta  $D$  in  $E$  taki točki, ki ležita zaporedoma na poltrakah  $CA$  in  $CB$ , a ne na stranicah trikotnika  $ABC$ , da velja  $|AD| = |BE| = |AB|$ . Naj bo  $F$  presečišče vzporednice k  $AC$  skozi točko  $E$  in vzporednice k  $BC$  skozi točko  $D$ . Presečišče premic  $AE$  in  $BD$  označimo z  $G$ . Dokaži, da je premica  $FG$  simetrala kota  $\sphericalangle EFD$ .

### Naloge za 4. letnik

Čas reševanja: **180 minut**. Vsaka naloga sklopa A ima natanko en pravilen odgovor. V sklopu A bomo pravilni odgovor ovrednotili z dvema točkama, za nepravilni odgovor pa bomo eno točko odšteli. Odgovore sklopa A vpiši v levo preglednico, desno preglednico pusti prazno. Komisija bo pri vrednotenju odgovorov sklopa A upoštevala samo odgovore, zapisane v preglednico.

A1	A2	A3

B1	B2	B3

**A1.** Naj bo  $a = 256$ ,  $b$  pa zmnožek vseh pozitivnih deliteljev števila  $a$ . Katera od naslednjih enakosti je pravilna?

- (A)  $b = a^4$       (B)  $b = a^9$       (C)  $b^2 = a^7$       (D)  $b^2 = a^9$       (E)  $b^3 = a^{10}$

**A2.** Naj bo  $f: \mathbb{R} \rightarrow \mathbb{R}$  poljubna soda funkcija in  $g: \mathbb{R} \rightarrow \mathbb{R}$  poljubna liha funkcija. Definirajmo funkcijo  $\varphi: \mathbb{R} \rightarrow \mathbb{R}$  s predpisom  $\varphi(x) = f(g(x)) + g(f(x))$  za vse  $x \in \mathbb{R}$ . Katera od naslednjih enakosti je zagotovo izpolnjena za vsa realna števila  $x$ ?

- (A)  $\varphi(x) = f(f(x))$       (B)  $\varphi(x) = g(g(x))$       (C)  $\varphi(x) = \varphi(-x)$   
 (D)  $\varphi(-x) = -\varphi(x)$       (E)  $\varphi(x) = 2f(g(x))$

**A3.** Klara ima 6 enakih kock. Na mejne ploskve vsake kocke je zapisala črke  $B, A, B, I, C$  in  $A$ , na vsako mejno ploskev po črko. Nato je hkrati vrgla vseh 6 kock. Kolikšna je verjetnost, da lahko iz črk, ki so po metu na zgornjih ploskvah kock, sestavi besedo  $BABICA$ ?

- (A)  $\frac{6!}{(2!)^2} \left(\frac{1}{3}\right)^4 \left(\frac{1}{6}\right)^2$       (B)  $\frac{6!}{(2!)^2} \left(\frac{1}{6}\right)^6$       (C)  $\left(\frac{1}{3}\right)^4 \left(\frac{1}{6}\right)^2$       (D)  $\left(\frac{1}{6}\right)^6$       (E) 1

**B1.** Največ koliko je lahko največji skupni delitelj števil  $a - 2b + 3$ ,  $2a - 3b - 1$  in  $3a + b - 2$ , če sta  $a$  in  $b$  naravni števili?

**B2.** V trikotniku  $ABC$  velja  $|AC| \neq |BC|$ . Naj bo  $S$  razpolovišče stranice  $AB$ ,  $D$  presečišče stranice  $AB$  in simetrale kota  $\sphericalangle ACB$  ter  $E$  zrcalna slika točke  $D$  pri zrcaljenju čez točko  $S$ . Trikotniku  $ABC$  očrtana krožnica seka premico  $CD$  v točkah  $C$  in  $F$ , premico  $CS$  pa v točkah  $C$  in  $G$ . Dokaži, da točke  $E, G, F$  in  $S$  ležijo na isti krožnici.



**B3.** Dano je naravno število  $m$ . Zaporedje  $a_n$  je definirano s pogojeoma  $a_1 = m$  in  $a_{n+1} = \left[ \frac{a_n^2 + 10a_n}{2a_n + 4} \right]$  za vse  $n \in \mathbb{N}$ . Dokaži, da je zaporedje  $a_n$  od nekega člena dalje konstantno.

*Opomba.* Za poljubno realno število  $x$  oznaka  $[x]$  označuje največje celo število, ki ni večje od  $x$ .

**Rešitve nalog za 1. letnik**

A1	A2	A3
B	D	C

**A1.** Na vsakem darilu je trak sestavljen iz 8 odsekov in pentlje. 4 odseki potekajo po stranskih ploskvah, 2 po zgornji in 2 po spodnji ploskvi. Na levem darilu so 4 odseki dolgi 30 cm, 2 odseka 20 cm in 2 odseka 10 cm. Na srednjem darilu sta 2 odseka dolga 30 cm, 4 odseki 20 cm in 2 odseka 10 cm. Na desnem darilu sta 2 odseka dolga 30 cm, 2 odseka 20 cm in 4 odseki 10 cm. Torej velja  $x > y > z$ .

**A2.** Če sliko dopolnimo tako, da označimo še sovršne kote kotov  $\alpha$ ,  $\beta$  in  $\gamma$ , opazimo, da velja  $2\alpha + 2\beta + 2\gamma = 360^\circ$ . Ker je  $\alpha = 3\gamma$  in  $\beta = 6\gamma$ , iz prejšnje enakosti sledi  $20\gamma = 360^\circ$  oziroma  $\gamma = 18^\circ$ . Torej je  $\alpha = 54^\circ$ .

**A3.** Velja  $2019^3 - 3 \cdot 2019 \cdot 2018 - 2018^3 = 2019^3 - 3 \cdot 2019 \cdot 2018 \cdot (2019 - 2018) - 2018^3 = 2019^3 - 3 \cdot 2019^2 \cdot 2018 + 3 \cdot 2019 \cdot 2018^2 - 2018^3 = (2019 - 2018)^3 = 1$ .

**B1.** Naj bodo  $a, b$  in  $c$  delitelji števila  $n$ , za katere je  $n^3 = a^2 + b^2 + c^2$ . Tedaj velja  $a, b, c \leq n$ , zato je  $n^3 = a^2 + b^2 + c^2 \leq 3n^2$  oziroma  $n \leq 3$ . Primer  $n = 1$  odpade, ker 1 ni vsota treh naravnih števil. Če je  $n = 2$ , sta edina delitelja 1 in 2. Toda nobena od vsot  $1^2 + 1^2 + 1^2$ ,  $1^2 + 1^2 + 2^2$ ,  $1^2 + 2^2 + 2^2$  in  $2^2 + 2^2 + 2^2$  ni enaka  $2^3$ , zato tudi primer  $n = 2$  odpade. Edina rešitev je  $n = 3$ , saj velja  $3^3 = 3^2 + 3^2 + 3^2$ .

**2. način.** Naj bodo  $a \leq b \leq c$  delitelji števila  $n$ , za katere je  $n^3 = a^2 + b^2 + c^2$ . Ker  $c^2$  deli  $n^3$ , mora deliti tudi  $a^2 + b^2$ . Toda po naši predpostavki je  $a^2 + b^2 \leq 2c^2$ , zato imamo dve možnosti,  $a^2 + b^2 = c^2$  ali  $a^2 + b^2 = 2c^2$ . V prvem primeru je  $n^3 = 2c^2$  oziroma  $\left(\frac{n}{c}\right)^2 n = 2$ , kar pomeni, da  $n$  deli 2. V drugem primeru je  $n^3 = 3c^2$  oziroma  $\left(\frac{n}{c}\right)^2 n = 3$ , kar pomeni, da  $n$  deli 3. Sledi, da je  $n$  enak 1, 2 ali 3. Na enak način kot v prvi rešitvi pokažemo, da je rešitev le  $n = 3$ .

<b>Uporaba dejstva, da je vsak delitelj števila manjši ali enak le temu</b> .....	<b>1 točka</b>
<b>Izpeljana ocena <math>n^3 = a^2 + b^2 + c^2 \leq 3n^2</math> skupaj z utemeljitvijo</b> .....	<b>2 točki</b>
<b>Ugotovitev <math>n \leq 3</math></b> .....	<b>1 točka</b>
<b>Utemeljitev <math>n \leq 3</math></b> .....	<b>1 točka</b>
<b>Ugotovitev, da <math>n = 1</math> ali <math>n = 2</math> nista rešitvi</b> .....	<b>1 točka</b>
<b>Edina rešitev <math>n = 3</math></b> .....	<b>1 točka</b>

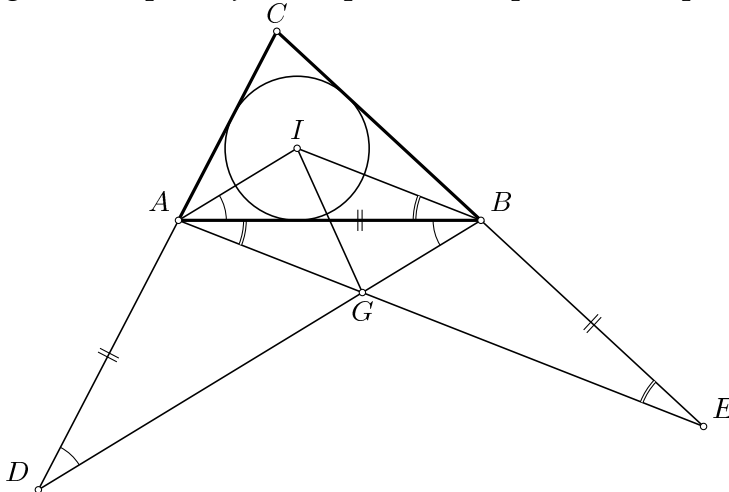
**B2.** Ker je trikotnik  $ABE$  enakokrak z vrhom pri  $B$ , velja

$$\sphericalangle EAB = \frac{1}{2}(\pi - \sphericalangle ABE) = \frac{1}{2} \sphericalangle CBA.$$

Premica  $BI$  je simetrala kota  $\sphericalangle CBA$ , zato je  $\frac{1}{2} \sphericalangle CBA = \sphericalangle IBA$ . Od tod sledi  $\sphericalangle EAB = \sphericalangle IBA$ , torej sta premici  $AE$  in  $BI$  vzporedni. Na podoben način sklepamo, da je

$$\sphericalangle ABD = \frac{1}{2}(\pi - \sphericalangle DAB) = \frac{1}{2} \sphericalangle BAC = \sphericalangle BAI,$$

torej sta tudi premici  $BD$  in  $AI$  vzporedni. Sledi da je  $AGBI$  paralelogram, zato se njegovi diagonalni razpolavljata. To pomeni, da premica  $GI$  poteka skozi razpolovišče stranice  $AB$ .



- Ugotovitev**  $\sphericalangle EAB = \sphericalangle BEA$  ali **ugotovitev**  $\sphericalangle ABD = \sphericalangle BDA$  ..... 1 točka  
**Ugotovitev**  $\sphericalangle EAB = \frac{1}{2} \sphericalangle CBA$  ali **ugotovitev**  $\sphericalangle ABD = \frac{1}{2} \sphericalangle BAC$  ..... 1 točka  
**Upoštevanje, da je**  $AI$  **simetrala**  $\sphericalangle BAC$  ali **upoštevanje, da je**  $BI$  **simetrala**  $\sphericalangle CBA$  ..... 1 točka  
**Dokaz**  $IB \parallel AG$  ali **dokaz**  $IA \parallel BG$  ..... 1 točka  
**Sklep, da je**  $AGBI$  **paralelogram** ..... 1 točka  
**Sklep, da se diagonalni paralelograma**  $AGBI$  **razpolavljata** ..... 2 točki

**B3.** V obeh enačbah odpravimo ulomke in ju poenostavimo, da dobimo

$$-x^2y^3 + 15x^2y^3 = -x^3y^2 + 15xy^4,$$

$$-6000y^3 + 36x^2y^3 - 16x^2 = -6000y^2 + 36xy^4 - 16x.$$

Prvo enačbo preoblikujemo v  $x^2y^2(x - y) = -15xy^3(x - y)$  in nato v

$$xy^2(x - y)(x + 15y) = 0.$$

Števili  $x$  in  $y$  torej zadoščata eni od naslednjih štirih možnosti:

1. možnost:  $x = 0$ . Ko to vstavimo v drugo od zgornjih dveh enačb, dobimo  $y^3 = y^2$  oziroma  $y^2(y - 1) = 0$ . Torej je  $y = 0$  ali  $y = 1$ . Prva možnost odpade, saj pri  $x = y = 0$  nekateri ulomki v začetnih enačbah niso dobro definirani. Ostane torej le možnost  $y = 1$ .

2. možnost:  $y = 0$ . Iz druge od zgornjih enačb tedaj dobimo  $x^2 = x$ , torej je  $x = 0$  ali  $x = 1$ . Možnost  $x = 0$  kot v prejšnjem primeru odpade, torej dobimo le rešitev  $x = 1$ .

3. možnost:  $y = x$ . To spet vstavimo v drugo enačbo in dobimo  $-6000x^3 - 16x^2 = -6000x^2 - 16x$ , kar lahko preoblikujemo v  $6000x^2(1 - x) = 16x(x - 1)$ , slednje pa v  $16x(x - 1)(375x + 1) = 0$ . Možnost  $x = 0$  odpade, saj je v tem primeru tudi  $y = 0$  in nekateri ulomki v začetnih enačbah niso dobro definirani. Iz enakega razloga odpade tudi možnost  $x = 1$ . Sledi  $375x + 1 = 0$  oziroma  $x = y = -\frac{1}{375}$ .

4. možnost:  $x = -15y$ . Ko to vstavimo v drugo enačbo in enačbo poenostavimo, dobimo

$$8640y^5 - 6000y^3 - 2400y^2 - 240y = 0.$$

Kot v prejšnjem primeru možnost  $y = 0$  odpade, saj je tedaj tudi  $x = 0$ . Zato lahko zadnjo enačbo delimo z  $240y$ , da dobimo

$$36y^4 - 25y^2 + 10y - 1 = 0.$$

Opazimo, da zadnji trije členi tvorijo popolni kvadrat, zato enačbo preoblikujemo v  $36y^4 - (5y - 1)^2 = 0$ , nato pa levo stran razstavimo po formuli za razliko kvadratov in dobimo

$$(6y^2 - 5y + 1)(6y^2 + 5y - 1) = 0.$$

Oba faktorja na levi strani enačbe razstavimo in dobimo

$$(3y - 1)(2y - 1)(6y - 1)(y + 1) = 0.$$

Rešitve so torej  $y = \frac{1}{3}$  in  $x = -5$ ,  $y = \frac{1}{2}$  in  $x = -\frac{15}{2}$ ,  $y = \frac{1}{6}$  in  $x = -\frac{5}{2}$  ter  $y = -1$  in  $x = 15$ . V vseh primerih so vsi ulomki v začetnih enačbah dobro definirani.

Vsi pari  $(x, y)$ , ki rešijo naloge so torej  $(0, 1)$ ,  $(1, 0)$ ,  $(-\frac{1}{375}, -\frac{1}{375})$ ,  $(-5, \frac{1}{3})$ ,  $(-\frac{15}{2}, \frac{1}{2})$ ,  $(-\frac{5}{2}, \frac{1}{6})$  in  $(15, -1)$ .

**Poenostavljena prva ali druga enačba, npr:**  $x^3y^2 + 14x^2y^3 - 15xy^4 = 0$ ,

$9x^2y^3 - 9xy^4 + 4x - 4x^2 + 1500y^2 - 1500y^3 = 0$  ..... 1 točka

**Razstavljena prva enačba, npr:**  $xy^2(x - y)(x + 15y) = 0$  ..... 1 točka

**Rešitev  $x = 0$  in  $y = 1$  ter ugotovitev, da  $x = 0$  in  $y = 0$  ni rešitev sistema** ..... 1 točka

**Rešitev  $x = 1$  in  $y = 0$  ter ugotovitev, da  $x = 0$  in  $y = 0$  ni rešitev sistema** ..... 1 točka

**Rešitev  $x = -\frac{1}{375}$  in  $y = -\frac{1}{375}$  ter ugotovitev, da  $x = 0$  in  $y = 0$  ter  $x = 1$  in  $y = 1$  nista rešitvi sistema** ..... 1 točka

**Rešitve  $x = -\frac{15}{2}$  in  $y = \frac{1}{2}$ ,  $x = -5$  in  $y = \frac{1}{3}$ ,  $x = -\frac{5}{2}$  in  $y = \frac{1}{6}$ ,  $x = 15$  in  $y = -1$  ter ugotovitev, da  $x = 0$  in  $y = 0$  ni rešitev sistema** ..... 2 točki

**(za dva pravilna para rešitev dobi kandidat 1 točko)**

**Rešitve nalog za 2. letnik**

A1	A2	A3
C	B	C

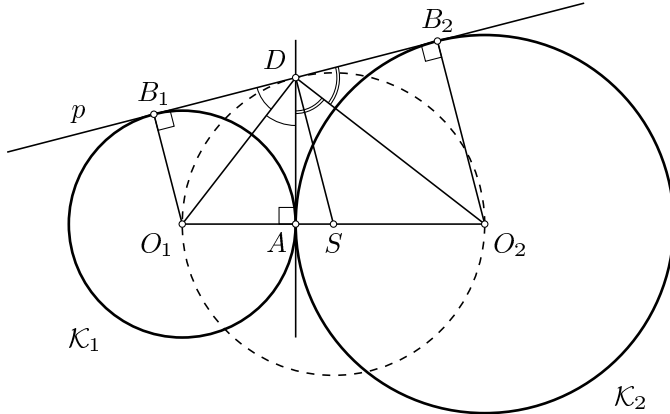
**A1.** Označimo količino tekočine, ki jo drži en kozarec z  $e$ . Tedaj je v skledi  $\frac{1}{3}e + \frac{2}{5}e = \frac{11}{15}e$  limoninega soka od skupno  $2e$  tekočine. Limonin sok torej predstavlja  $\frac{\frac{11}{15}e}{2e} = \frac{11}{30}$  tekočine v skledi.

**A2.** Razlika med ploščinama trikotnikov  $ADE$  in  $BCD$  je enaka razliki med ploščinama trikotnikov  $ABE$  in  $ABC$ , to je  $\frac{|AB| \cdot |AE|}{2} - \frac{|AB| \cdot |BC|}{2} = \frac{4 \cdot 8}{2} - \frac{4 \cdot 6}{2} = 4$ .

**A3.** Pozitivni delitelji števila  $2331 = 3^2 \cdot 7 \cdot 37$  so 1, 3, 7, 9, 21, 37, 63, 111, 259, 333, 777 in 2331. Med njimi je le 259 trimestno naravno število s tremi različnimi števki. Torej je  $ENA = 259$  in zato  $c = 2331 : 259 = 9$ .

**B1.** Naj bo  $S$  razpolovišče daljice  $O_1O_2$  ter  $A$  dotikališče krožnic  $\mathcal{K}_1$  in  $\mathcal{K}_2$ . Dotikališči premice  $p$  s krožnicama  $\mathcal{K}_1$  in  $\mathcal{K}_2$  označimo zaporedoma z  $B_1$  in  $B_2$ , presečišče premice  $p$  s tangento na krožnici  $\mathcal{K}_1$  in  $\mathcal{K}_2$  skozi točko  $A$  pa označimo z  $D$ . Trikotnika  $O_1AD$  in  $O_1B_1D$  sta skladna, saj imata dve enako dolgi stranici in enak kot  $\frac{\pi}{2}$  nasproti daljše stranice, zato velja  $\sphericalangle B_1DO_1 = \sphericalangle O_1DA$ . Podobno sklepamo, da velja tudi  $\sphericalangle ADO_2 = \sphericalangle O_2DB_2$ , in od tod izpeljemo  $\sphericalangle O_1DO_2 = \sphericalangle O_1DA + \sphericalangle ADO_2 = \frac{\sphericalangle B_1DA}{2} + \frac{\sphericalangle ADB_2}{2} = \frac{\pi}{2}$ . Po Talesovem izreku torej točka  $D$  leži na krožnici s premerom  $O_1O_2$ , zato je dovolj dokazati, da je premica  $SD$  pravokotna na premico  $p$ .

Ker točka  $D$  leži na krožnici s premerom  $O_1O_2$ , je  $|SD| = |SO_1|$ , torej je trikotnik  $O_1SD$  enakokrak z vrhom pri  $S$ . Sledi  $\sphericalangle SO_1D = \sphericalangle O_1DS$  in zato je  $\sphericalangle B_1DS = \sphericalangle B_1DO_1 + \sphericalangle O_1DS = \frac{\pi}{2} - \sphericalangle DO_1B_1 + \sphericalangle SO_1D = \frac{\pi}{2}$ , kar je bilo treba dokazati.



**2. način.** Primer, ko je premica  $p$  vzporedna premici  $O_1O_2$  je očiten, zato lahko predpostavimo, da se omenjeni premici sekata in njuno presečišče označimo s  $T$ . Naj bo  $S$  razpolovišče daljice  $O_1O_2$ ,  $D'$  pa pravokotna projekcija točke  $S$  na premico  $p$ . Dotikališči premice  $p$  s krožnicama  $\mathcal{K}_1$  in  $\mathcal{K}_2$  označimo z  $B_1$  in  $B_2$ , polmera krožnic  $\mathcal{K}_1$  in  $\mathcal{K}_2$  pa z  $r_1$  in  $r_2$ . Iz podobnosti trikotnikov  $TO_1B_1$ ,  $TSD'$  in  $TO_2B_2$  sledi

$$\frac{r_1}{|O_1T|} = \frac{|SD'|}{|ST|} = \frac{r_2}{|O_2T|},$$

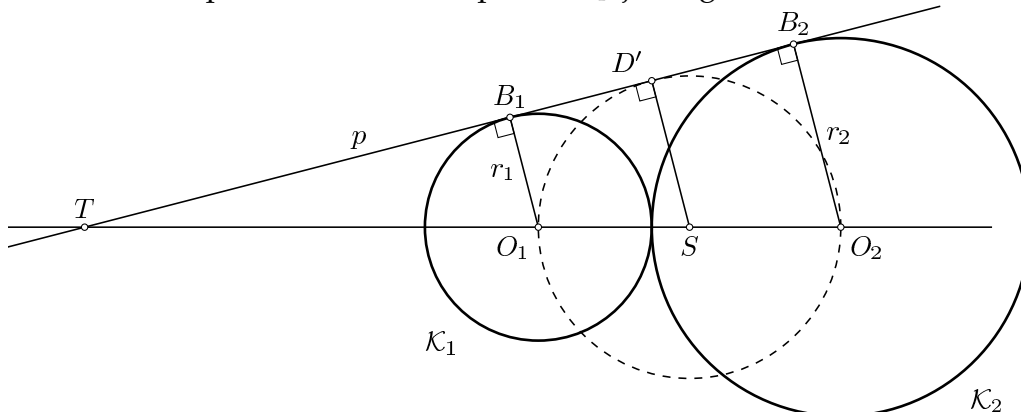
torej je

$$\begin{aligned} |SD'| \cdot |O_1T| &= r_1 \cdot |ST| = r_1 \cdot (|SO_1| + |O_1T|) && \text{in} \\ r_2 \cdot |O_1T| &= r_1 \cdot |O_2T| = r_1 \cdot (|O_2O_1| + |O_1T|) = r_1 \cdot (2|SO_1| + |O_1T|). \end{aligned}$$

Prvo enačbo pomnožimo z 2 in od nje odštejemo drugo enačbo, da dobimo

$$(2|SD'| - r_2) \cdot |O_1T| = r_1 \cdot |O_1T|.$$

Od tod sledi  $2|SD'| - r_2 = r_1$  oziroma  $|SD'| = \frac{r_1+r_2}{2} = \frac{|O_1O_2|}{2} = |SO_1| = |SO_2|$ . Torej točka  $D'$  leži na krožnici s polmerom  $O_1O_2$  in premica  $p$  je tangenta te krožnice.



## 1. način

**Ugotovitev, da  $D$  leži na krožnici s premerom  $O_1O_2$  je vredna 4 točke:**

- Uvedba presečišča tangent** ..... 1 točka  
**Skladnost vsaj enega para trikotnikov ( $B_1DO_1, ADO_1$  ali  $B_2DO_2, ADO_2$ )** ..... 1 točka  
**Ugotovitev, da  $\sphericalangle O_1DO_2 = 90^\circ$**  ..... 1 točka  
**Sklep, da  $D$  leži na krožnici s premerom  $O_1O_2$**  ..... 1 točka

**Ugotovitev, da se  $p$  dotika krožnice  $O_1O_2D$  je vredna 3 točke:**

- Ugotovitev  $\sphericalangle SO_1D = \sphericalangle O_1DS$  ali  $\sphericalangle O_1DA = \sphericalangle DO_2O_1$**  ..... 1 točka  
**Izračun  $\sphericalangle B_1DS = 90^\circ$  ali  $\sphericalangle B_1DO_1 = \sphericalangle DO_2O_1$**  ..... 1 točka  
**Zaključek z definicijo tangentnosti ali uporabo izreka o kotu med tetivo in tangento ...** 1 točka

## 2. način

**Konstrukcija razpolovišča zveznice med središči in**

- pravokotne projekcije na tangento** ..... 1 točka  
**Zapis enakosti med razmerji  $\frac{r_1}{|O_1T|} = \frac{|SD'|}{|ST|} = \frac{r_2}{|O_2T|}$**  ..... 1 točka  
**Izračun  $(2|SD'| - r_2) \cdot |O_1T| = r_1 \cdot |O_1T|$  ali podobne enačbe, iz katere direktno sledi  $|SD'| = |SO_1| = |SO_2|$**  ..... 3 točke  
**Izpeljava, da je  $|SD'| = |SO_1| = |SO_2|$**  ..... 1 točka  
**Ugotovitev, da je krožnica s premerom  $O_1O_2$  zato tangenta na  $p$**  ..... 1 točka



**B2.** Pokazali bomo, da takšno praštevilo ne obstaja. Enačbo preoblikujemo v  $p^2 + p = n^3 - 1$  in obe strani razstavimo, da dobimo  $p(p+1) = (n-1)(n^2+n+1)$ . Če  $p$  deli  $n-1$ , tedaj  $n^2+n+1$  deli  $p+1$ . Od tod sledi  $n^2+n+1 \leq p+1 \leq n$ , kar pa je protislovje. Torej mora  $p$  deliti  $n^2+n+1$  in zato  $n-1$  deli  $p+1$ . To pomeni, da obstaja naravno število  $k$ , da velja  $n^2+n+1 = kp$  in  $p+1 = k(n-1)$ . Iz druge enakosti izrazimo  $p$  in ga vstavimo v prvo enakost, da dobimo  $n^2+n+1 = k(k(n-1)-1) = k^2n - k^2 - k$ . Slednje preoblikujemo v  $n^2 + (1-k^2)n + (k^2+k+1) = 0$  in to pogledamo kot kvadratno enačbo v spremenljivki  $n$ . Ker mora imeti ta enačba rešitev, ki je naravno število, mora biti njena diskriminanta  $D = k^4 - 6k^2 - 4k - 3$  popoln kvadrat. Opazimo, da je  $D = (k^2 - 3)^2 - 4k - 12 < (k^2 - 3)^2$ , saj je  $4k + 12 > 0$ . Prvi popoln kvadrat, ki je manjši od  $(k^2 - 3)^2$ , je  $(k^2 - 4)^2$ , zato mora veljati  $D \leq (k^2 - 4)^2$ . Z upoštevanjem zveze  $D = k^4 - 6k^2 - 4k - 3$  to neenakost preoblikujemo v  $2k^2 - 4k - 19 \leq 0$  oziroma  $2k(k-2) \leq 19$ . Opazimo, da za  $k \geq 5$  neenakost ni izpolnjena, torej so edine naravne rešitve 1, 2, 3 in 4. Toda diskriminanta  $D$  je pri teh vrednostih števila  $k$  zaporedoma enaka -12, -19, 12 in 141 in v nobenem primeru ni popoln kvadrat. Torej tako praštevilo  $p$  ne obstaja.

- Preoblikovanje enačbe v  $p(p+1) = (n-1)(n^2+n+1)$  ..... 1 točka**
- 1. možnost: Ugotovitev, da če  $p$  deli  $n-1$ , tedaj  $n^2+n+1$  deli  $p+1$ , od koder sledi  $n^2+n+1 \leq p+1 \leq n$ , kar je protislovje. .... 1 točka**
- 2. možnost: Izračun  $pk = n^2+n+1$  in  $p = k(n-1) - 1$  (ali podoben izraz). .... 1 točka**
- Zapis kvadratne enačbe  $n^2 + (1-k^2)n + (k^2+k+1) = 0$  v spremenljivki  $n$ . Ugotovitev, da mora biti njena diskriminanta  $D$  popolni kvadrat. .... 1 točka**
- Ocena  $D < (k^2 - 3)^2 \leq (k^2 - 4)^2$ . .... 1 točka**
- Izračun neenakosti  $2k(k-2) \leq 19$ . .... 1 točka**
- Ugotovljen sklep, da za  $k \geq 5$  neenakost ni izpolnjena in za  $k < 5$  diskriminanta  $D$  ni popolni kvadrat. .... 1 točka**

**B3.** Tretji pogoj v nalogi pove, da sta števili  $a$  in  $b$  povezani, če lahko števila v množici  $K$  razporedimo v vrsto, ki se začne z  $a$  in konča z  $b$ , tako da sta vsaki dve sosednji števili v tej vrsti različne parnosti. Vrsto, v kateri sta vsaki dve sosednji števili različne parnosti, bomo imenovali *alternirajoča vrsta*.

Obravnavajmo različni možnosti glede na parnost števila  $k$ .

Denimo, da je  $k$  sodo število. Števili  $a$  in  $b$  sta povezani z alternirajočo vrsto natanko tedaj, ko sta različnih parnosti. Ker je  $k \geq 3$ , lahko izmed števil v množici  $K$  izberemo dve števili, ki sta iste parnosti in zato nista povezani.

Denimo, da je  $k$  liho število. Števili  $a$  in  $b$  sta povezani z alternirajočo vrsto natanko tedaj, ko sta iste parnosti. Ker je  $k \geq 3$ , lahko izmed števil v množici  $K$  izberemo dve števili, ki sta različne parnosti in zato nista povezani.

**Števili  $a$  in  $b$  sta povezani z vrsto števil, pri kateri sta vsaki dve sosednji števili v tej vrsti različne parnosti. .... 1 točka**  
**Za  $k$  sodo število sta števili  $a$  in  $b$  povezani z alternirajočo vrsto natanko tedaj, ko sta različnih parnosti. Ker je  $k \geq 3$ , lahko izmed števil v množici  $K$  izberemo dve števili, ki sta iste parnosti in zato nista povezani. .... 3 točke**  
**Za  $k$  liho število sta števili  $a$  in  $b$  povezani z alternirajočo vrsto natanko tedaj, ko sta iste parnosti. Ker je  $k \geq 3$ , lahko izmed števil v množici  $K$  izberemo dve števili, ki sta različne parnosti in zato nista povezani. .... 3 točke**

### Rešitve nalog za 3. letnik

A1	A2	A3
B	B	E

**A1.** Če je Tadejev ulomek enak  $\frac{a}{b}$ , tedaj je Sarin ulomek  $\frac{1.4a}{b}$ , Katjin ulomek pa  $\frac{2a}{b} = \frac{1.4a}{0.7b}$ . Katja mora imenovalec Sarinega novega ulomka zmanjšati za 30%.

**A2.** Dolžino, širino in višino kvadra označimo z  $a$ ,  $b$  in  $c$ . Tedaj po Pitagorovem izreku velja  $a^2 + b^2 = |XY|^2 = 64$ ,  $b^2 + c^2 = |ZX|^2 = 55$  in  $c^2 + a^2 = |YZ|^2 = 81$ . Enačbe seštejemo, da dobimo  $2(a^2 + b^2 + c^2) = 200$ . Dolžina telesne diagonale kvadra je enaka  $\sqrt{a^2 + b^2 + c^2} = \sqrt{\frac{200}{2}} = 10$  cm.

**A3.** Trikotnika  $AED$  in  $DEF$  imata ploščini v razmerju 1 : 1 in skupno višino skozi oglišče  $E$ , zato sta tudi njuni stranici v razmerju  $|DA| : |FD| = 1 : 1$ . Trikotnika  $ACB$  in  $FCB$  imata ploščini v razmerju 4 : 1 in skupno višino skozi oglišče  $C$ , zato sta njuni stranici v razmerju  $|BA| : |BF| = 4 : 1$ . Torej je  $|BA| = 4|BF|$ ,  $|FA| = |BA| - |BF| = 3|BF|$ ,  $|FD| = \frac{1}{2}|FA| = \frac{3}{2}|BF|$  in  $|BD| = |BF| + |FD| = \frac{5}{2}|BF|$ . Sledi  $|FA| : |BD| = 3|BF| : \frac{5}{2}|BF| = 6 : 5$ .

**B1.** Logaritem je definiran le za pozitivna števila, zato mora biti  $x > 0$ . Število  $x = 1$  očitno ni rešitev enačbe, zato lahko privzamemo, da je  $x \neq 1$ . Za pozitivno realno število  $x \neq 1$  velja  $\log_{10} x = \frac{1}{\log_x 10}$ , zato je  $\log_{10} 6 = \frac{\log_x 6}{\log_x 10} = \log_x x \cdot \log_x 6$ . S pomočjo te zveze lahko dano enakost preoblikujemo do

$$6^{\log_{10} x} + (x^{\log_x 6})^{\log_{10} x} = 72$$

in nato upoštevamo enakost  $x^{\log_x 6} = 6$ , da dobimo

$$2 \cdot 6^{\log_{10} x} = 72.$$

Od tod sledi  $6^{\log_{10} x} = 36 = 6^2$ , torej je  $\log_{10} x = 2$  oziroma  $x = 100$ .

**1. način:**

**Uporaba enačbe-prehod na novo osnovo logaritma .....1 točka**

**Preoblikovanje do enačbe  $2 \cdot x^{\log_{10} 6} = 72$  ..... 5 točk**

**Poenostavljen rezultat  $x = 100$  ..... 1 točka**

**2. način:**

**Preverjena rešitev  $x = 100$  .....1 točka**

**Polna utemeljitev, da je rešitev le ena, saj je leva stran enačbe strogo monotona funkcija  
6 točk**

**B2.** Naj bo  $p(x) = a_n x^n + \dots + a_0$  iskani polinom. Če je  $\frac{k}{m}$  neka njegova racionalna ničla, tedaj  $k$  deli  $a_0$  in  $m$  deli  $a_n$ . Ker pa sta  $a_0$  in  $a_n$  oba enaka 1 ali  $-1$ , sta tudi  $k$  in  $m$  enaka 1 ali  $-1$ . Torej so vse ničle polinoma  $p(x)$  enake 1 ali  $-1$ . Hkrati je tudi vodilni koeficient polinoma  $p(x)$  enak 1 ali  $-1$ , zato lahko pišemo  $p(x) = \pm(x-1)^m(x+1)^k$  za neki nenegativni celi števili  $m$  in  $k$  (ne obe enaki 0). Če je  $m = 0$ , tedaj očitno le polinoma  $\pm(x+1)$  zadoščata pogojem naloge, in če je  $k = 0$ , le polinoma  $\pm(x-1)$  zadoščata pogojem naloge. V nadaljevanju zato predpostavimo, da sta  $k$  in  $m$  naravni števili. Sledi

$$\pm p(x) = (x^m - mx^{m-1} + \dots)(x^k + kx^{k-1} + \dots) = x^{k+m} + (k-m)x^{k+m-1} + \dots,$$

torej je  $k - m = \pm 1$ .

Če je  $k = m + 1$ , potem je

$$\pm p(x) = (x^2 - 1)^m(x + 1) = (x^{2m} - mx^{2m-2} + \dots)(x + 1) = x^{2m+1} + x^{2m} - mx^{2m-1} + \dots,$$

od koder sledi  $m = 1$  in  $p(x) = \pm(x-1)(x+1)^2 = \pm(x^3 + x^2 - x - 1)$ .

Če pa je  $k = m - 1$  oziroma  $m = k + 1$ , pa podobno kot zgoraj sledi

$$\pm p(x) = (x^2 - 1)^k(x - 1) = (x^{2k} - kx^{2k-2} + \dots)(x - 1) = x^{2k+1} - x^{2k} - kx^{2k-1} + \dots,$$

torej je  $k = 1$  in  $p(x) = \pm(x-1)^2(x+1) = \pm(x^3 - x^2 - x + 1)$ .

Vse rešitve so torej polinomi  $\pm(x-1)$ ,  $\pm(x+1)$ ,  $\pm(x^3 + x^2 - x - 1)$  in  $\pm(x^3 - x^2 - x + 1)$ .

<b>Dokaz, da so vse ničle enake <math>\pm 1</math></b> .....	<b>2 točki</b>
<b>Zapis v obliki <math>\pm(x-1)^m(x+1)^k</math></b> .....	<b>1 točka</b>
<b>Dokaz, da je <math> k-m  = 1</math></b> .....	<b>1 točka</b>
<b>Izračun vseh možnih parov <math>(k, m)</math></b> .....	<b>3 točke</b>

**B3.** Označimo s  $P$  presečišče daljice  $BC$  in simetrale kota  $\sphericalangle BAC$ , z  $Q$  pa presečišče daljice  $AC$  in simetrale kota  $\sphericalangle CBA$ . Presečišče premic  $AP$  in  $BQ$  je torej središče trikotniku  $ABC$  včrtane krožnice, označimo ga z  $I$ . Ker je trikotnik  $BAD$  enakokrak z vrhom pri  $A$ , je  $\sphericalangle BDA = \frac{1}{2}(\pi - \sphericalangle DAB) = \frac{1}{2}(\sphericalangle BAC) = \sphericalangle PAC$ . Torej sta premici  $BD$  in  $PA$  vzporedni in trikotnika  $BCD$  in  $PCA$  sta si podobna. Sledi

$$\frac{|CB|}{|CD|} = \frac{|CP|}{|CA|} \quad \text{ozziroma} \quad |CP| \cdot |CD| = |CB| \cdot |CA|.$$

Na enak način pokažemo, da sta tudi premici  $AE$  in  $QB$  vzporedni ter trikotnika  $ECA$  in  $BCQ$  podobna, zato velja še

$$\frac{|CE|}{|CA|} = \frac{|CB|}{|CQ|} \quad \text{ozziroma} \quad |CE| \cdot |CQ| = |CB| \cdot |CA|.$$

Iz zgornjih enakosti sledi

$$|CP| \cdot |CD| = |CE| \cdot |CQ| \quad \text{ozziroma} \quad \frac{|CP|}{|CQ|} = \frac{|CE|}{|CD|}.$$

To pomeni, da sta trikotnika  $PCQ$  in  $ECD$  podobna. V posebnem sta premici  $PQ$  in  $ED$  vzporedni. Štirikotnik  $FECD$  je paralelogram, saj ima dva para vzporednih stranic, zato sta trikotnika  $ECD$  in  $DFE$  skladna. Posledično sta trikotnika  $PCQ$  in  $DFE$  podobna. Iz vzporednosti premic  $BD$  in  $PA$ ,  $AE$  in  $QB$  ter  $PQ$  in  $ED$  sledi, da sta tudi trikotnika  $QIP$  in  $EGD$  podobna. Torej sta celo štirikotnika  $PCQI$  in  $DFEG$  podobna. Ker je diagonala  $CI$  simetrala kota  $\sphericalangle QCP$ , je tudi diagonala  $FG$  simetrala kota  $\sphericalangle EFD$ .

**2. način.** Uporabimo oznake iz prve rešitve. Podobnost trikotnikov  $PCQ$  in  $ECD$  lahko pokažemo tudi nekoliko drugače. Simetrala notranjega kota trikotnika razdeli nasprotno stranico v razmerju, ki je enako razmerju priležnih stranic. Tako velja

$$\frac{|BP|}{|CP|} = \frac{|AB|}{|AC|} \quad \text{ozziroma} \quad |BP| = \frac{|AB| \cdot |CP|}{|AC|}.$$

Slednje vstavimo v enakost  $|BP| + |CP| = |BC|$  in izrazimo  $|CP|$ , da dobimo

$$|CP| = \frac{|CA| \cdot |CB|}{|AB| + |AC|} = \frac{|CA| \cdot |CB|}{|CD|},$$

kjer smo upoštevali še  $|AB| = |AD|$ . Na enak način izpeljemo še

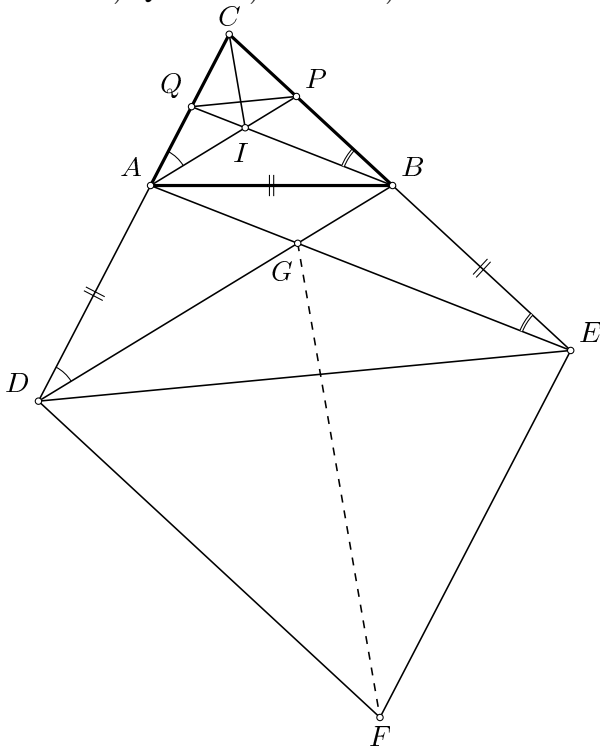
$$|CQ| = \frac{|CA| \cdot |CB|}{|AB| + |BC|} = \frac{|CA| \cdot |CB|}{|CE|}.$$

Od tod sledi  $\frac{|CP|}{|CQ|} = \frac{|CE|}{|CD|}$ , zato sta si trikotnika  $PCQ$  in  $ECD$  podobna in premici  $PQ$  in  $ED$  sta vzporedni. Ker sta tudi premici  $EF$  in  $AC$  ter premici  $DF$  in  $BC$  vzporedni, sta si podobna tudi trikotnika  $PCQ$  in  $DFE$ .

Na enak način kot v prvi rešitvi pokažemo, da sta premici  $BD$  in  $PA$  ter premici  $AE$  in  $QB$  vzporedni. Skupaj z vzporednostjo premic  $PQ$  in  $ED$  to pomeni, da sta trikotnika  $QIP$  in  $EGD$  podobna. Od tod sledi  $\frac{|DE|}{|DG|} = \frac{|PQ|}{|PI|}$ , iz podobnosti trikotnikov  $PCQ$  in  $ECD$  pa še  $\frac{|DF|}{|DE|} = \frac{|PC|}{|PQ|}$ . Zadnji dve enakosti zmnožimo, da dobimo

$$\frac{|DF|}{|DG|} = \frac{|PC|}{|PI|}.$$

Zaradi vzporednosti premic  $DF$  in  $PC$  ter premic  $DG$  in  $PI$ , pa sledi še  $\sphericalangle FDG = \sphericalangle CPI$ . Trikotnika  $FDG$  in  $CPI$  se tako ujemata v enem kotu in razmerju stranic ob tem kotu, zato sta si podobna. Na enak način pokažemo, da sta si podobna tudi trikotnika  $FEG$  in  $CQI$ . Torej je  $\sphericalangle EFG = \sphericalangle QCI = \sphericalangle ICP = \sphericalangle GFD$ .



- Vpeljava točk  $I, P$  ali  $Q$ .....1 točka.**  
**Izračun enakosti  $\sphericalangle BDA = \sphericalangle PAC = \frac{\alpha}{2}$  ali  $\frac{|BP|}{|CP|} = \frac{|AB|}{|AC|}$  ali  $\frac{|AQ|}{|CQ|} = \frac{|AB|}{|BC|}$ .....1 točka.**  
**Podobnost trikotnikov  $BCD$  in  $PCA$  ali podobnost trikotnikov  $ACE$  in  $QCB$  ali vzporednost  $BD \parallel AP$  ali vzporednost  $AE \parallel QP$ .....1 točka.**  
**Podobnost trikotnikov  $PCQ$  in  $ECD$  ali vzporednost  $PQ \parallel DE$ .....1 točka.**  
**Podobnost trikotnikov  $DEG$  in  $PQI$  ali podobnost trikotnikov  $DEF$  in  $PQC$ .....1 točka.**  
**Podobnost trikotnikov  $FEG$  in  $CQI$  ali podobnosti trikotnikov  $FDG$  in  $CPI$  (lahko le razmerje  $\frac{|EG|}{|EF|} = \frac{|QI|}{|QC|}$  oziroma  $\frac{|DF|}{|DG|} = \frac{|PC|}{|PI|}$ ).....1 točka.**  
**Sklep  $\sphericalangle EFG = \sphericalangle QCI = \sphericalangle ICP = \sphericalangle DFG$ .....1 točka.**

### Rešitve nalog za 4. letnik

A1	A2	A3
D	C	A

**A1.** Ker je  $a = 2^8$ , je  $b = 1 \cdot 2 \cdot 2^2 \cdot \dots \cdot 2^8 = 2^{0+1+2+\dots+8} = 2^{36}$ . Torej velja  $b^2 = 2^{72} = a^9$ . Pravilen odgovor je **(D)**.

**A2.** Ker je  $f(x)$  soda funkcija in  $g(x)$  liha funkcija, velja  $f(-x) = x$  in  $g(-x) = -g(x)$  za vsa realna števila  $x$ . Torej je  $\varphi(-x) = f(g(-x)) + g(f(-x)) = f(-g(x)) + g(f(x)) = f(g(x)) + g(f(x)) = \varphi(x)$ . Pravilen odgovor je **(C)**. Primer  $f(x) = x^2$  in  $g(x) = 2x$  pokaže, da nobena od ostalih enakosti ni nujno izpolnjena, saj v tem primeru velja  $\varphi(x) = 6x^2$ ,  $f(f(x)) = x^4$ ,  $g(g(x)) = 4x$  in  $2f(g(x)) = 8x^2$ .

**A3.** Verjetnosti, da na eni kocki pade črka  $A$ ,  $B$ ,  $C$  oz.  $I$  so zaporedoma enake  $\frac{1}{3}$ ,  $\frac{1}{3}$ ,  $\frac{1}{6}$  oz.  $\frac{1}{6}$ . Mislimo si, da Klara kocke vrže tako, da so urejene v vrsto. Tedaj je verjetnost, da pade beseda  $BABICA$  enaka  $\frac{1}{3} \cdot \frac{1}{3} \cdot \frac{1}{3} \cdot \frac{1}{6} \cdot \frac{1}{6} \cdot \frac{1}{3} = \left(\frac{1}{3}\right)^4 \left(\frac{1}{6}\right)^2$ . Ugoden pa je katerikoli izid, kjer so črke v tej besedi premešane. Vseh takih izidov je skupaj  $\frac{6!}{(2!)^2}$ , saj gre za permutacije s ponavljanjem na 6 elementih, pri čemer se črki  $A$  in  $B$  pojavita 2-krat. Verjetnost, da lahko Klara iz dobljenih črk sestavi besedo  $BABICA$  je torej  $\frac{6!}{(2!)^2} \left(\frac{1}{3}\right)^4 \left(\frac{1}{6}\right)^2$ .



**B1.** Naj bo  $d$  največji skupni delitelj danih števil. Tedaj  $d$  deli tudi števila

$$(2a - 3b - 1) - 2(a - 2b + 3) = b - 7,$$

$$(a - 2b + 3) + 2(b - 7) = a - 11,$$

$$(3a + b - 2) - (b - 7) = 3a + 5,$$

$$(3a + 5) - 3(a - 11) = 38.$$

Torej je  $d$  lahko največ 38. Če izberemo  $a = 11$  in  $b = 7$ , potem je  $a - 2b + 3 = 0$ ,  $2a - 3b - 1 = 0$  in  $3a + b - 2 = 38$ , torej je največji skupni delitelj res lahko 38.

**Navedba ali uporaba dejstva, da za poljubni celi števili  $e$  in  $f$  njun največji skupni delitelj  $\gcd(e, f)$  deli poljubno linearno kombinacijo  $e$  in  $f$  ..... 1 točka**

**Zapis enakosti  $(2a - 3b - 1) - 2(a - 2b + 3) = b - 7$  (oziroma ekvivalentna eliminacija ene spremenljivke iz enačb) ..... 1 točka**

**Zapis enakosti  $(a - 2b + 3) + 2(b - 7) = a - 11$  (oziroma ekvivalentna eliminacija druge spremenljivke iz enačb) ..... 1 točka**

**Zapis enakosti  $(3a + b - 2) - (b - 7) = 3a + 5$  (oziroma ekvivalentna eliminacija druge spremenljivke iz enačb na drug način kot prej) ..... 1 točka**

**Zapis enakosti  $(3a + 5) - 3(a - 11) = 38$  (oziroma ekvivalentna eliminacija vseh spremenljivk iz enačb) in sklep, da je  $d$  lahko največ 38. .... 1 točka**

**Konstrukcija primera z  $a = 11$  in  $b = 7$  (oziroma ekvivalentno), ki da  $d = 38$ . .... 2 točki**

**Opomba: Če je dvakrat eliminirana ista spremenljivka, se tekmovalcu da tudi točka od eliminacije druge spremenljivke.**

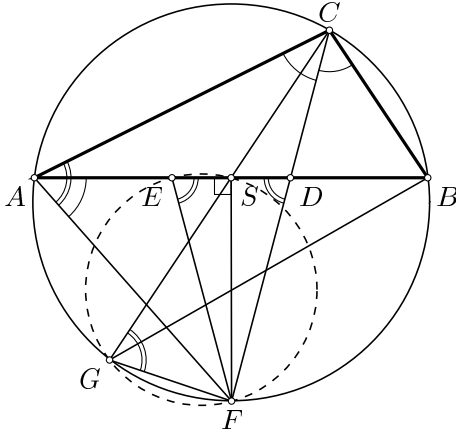
**B2.** Zaradi simetrije lahko predpostavimo, da je  $|AC| > |BC|$ . Potem točka  $D$  leži med  $S$  in  $B$ , točka  $E$  pa med  $S$  in  $A$ . Hkrati točka  $G$  leži na istem bregu premice  $FS$  kot točka  $E$ . Simetrali stranice in nasprotnega kota v trikotniku se vedno sekata na trikotniku očrtani krožnici. Torej simetrala stranice  $AB$  poteka skozi točko  $F$ , kar pomeni, da je premica  $SF$  pravokotna na premico  $AB$ . Od tod sledi, da sta trikotnika  $FSD$  in  $FSE$  skladna, zato velja

$$\sphericalangle FES = \sphericalangle SDF = \sphericalangle ADF = \sphericalangle ACD + \sphericalangle DAC.$$

Po izreku o obodnih kotih je

$$\sphericalangle FGS = \sphericalangle FGC = \sphericalangle FAC = \sphericalangle FAB + \sphericalangle BAC = \sphericalangle FCB + \sphericalangle BAC = \sphericalangle ACF + \sphericalangle BAC = \sphericalangle ACD + \sphericalangle DAC.$$

Od tod sledi  $\sphericalangle FES = \sphericalangle FGS$ . Ker točki  $E$  in  $G$  ležita na istem bregu premice  $FS$ , po izreku o obodnih kotih sledi, da točke  $E, G, F$  in  $S$  ležijo na isti krožnici.

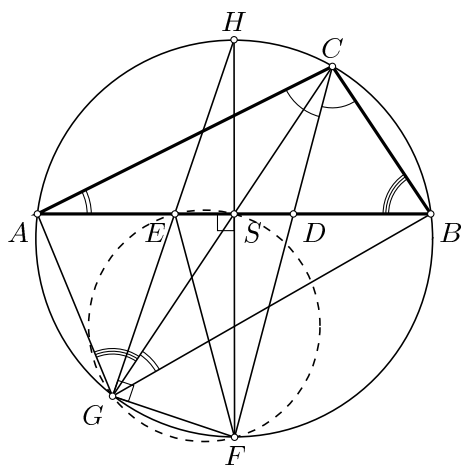


**2. način.** Zaradi simetrije lahko predpostavimo, da je  $|AC| > |BC|$ . Potem točka  $D$  leži med  $S$  in  $B$ , točka  $E$  pa med  $S$  in  $A$ . Ker je  $AGBC$  tetiven štirikotnik, je  $\sphericalangle BGC = \sphericalangle BAC$ , torej sta trikotnika  $GBS$  in  $ACS$  podobna, saj imata dva enaka kota. Podobno je  $\sphericalangle SGA = \sphericalangle CBS$ , zato sta tudi trikotnika  $AGS$  in  $CBS$  podobna. Iz prve podobnosti sledi  $\frac{|SG|}{|SA|} = \frac{|BG|}{|AC|}$ , iz druge pa  $\frac{|SG|}{|SB|} = \frac{|AG|}{|BC|}$ . Ker pa je  $|SA| = |SB|$ , iz obeh enakosti sledi  $\frac{|BG|}{|AC|} = \frac{|AG|}{|BC|}$  oziroma  $\frac{|AC|}{|BC|} = \frac{|BG|}{|AG|}$ . Ker je premica  $CD$  simetrala kota  $\sphericalangle ACB$ , je  $\frac{|AD|}{|BD|} = \frac{|AC|}{|BC|}$ . Točki  $D$  in  $E$  sta simetrični glede na razpolovišče stranice  $AB$ , zato velja  $|BE| = |AD|$  in  $|AE| = |BD|$ . Iz vsega tega izpeljemo

$$\frac{|BE|}{|AE|} = \frac{|AD|}{|BD|} = \frac{|AC|}{|BC|} = \frac{|BG|}{|AG|}.$$

Ker točka  $E$  leži na daljici  $AB$ , od tod sledi, da je premica  $GE$  simetrala kota  $\sphericalangle BGA$ .

Označimo s  $H$  drugo presečišče premice  $GE$  in trikotniku  $ABC$  očrtane krožnice. Ker je premica  $GE$  simetrala kota  $\sphericalangle BGA$ , sta krožna loka  $\widehat{BH}$  in  $\widehat{AH}$  enako dolga. Podobno je premica  $CF$  simetrala kota  $\sphericalangle ACB$ , zato sta tudi krožna loka  $\widehat{AF}$  in  $\widehat{BF}$  enako dolga. Od tod sledi, da je daljica  $HF$  premer trikotniku  $ABC$  očrtane krožnice, torej po Talesovem izreku velja  $\sphericalangle FGE = \sphericalangle FGH = \frac{\pi}{2}$ . Hkrati pa iz enakosti krožnih lokov sledi tudi, da premica  $HF$  poteka skozi  $S$  in je pravokotna na stranico  $AB$ , torej je  $\sphericalangle ESF = \frac{\pi}{2}$ . Po Talesovem izreku torej točke  $E, G, F$  in  $S$  ležijo na isti krožnici.



- Ugotovitev  $FS \perp AB$  in utemeljitev** ..... 1+1 točka  
**Ugotovitev  $\sphericalangle FGS = \sphericalangle BAC + \sphericalangle ACF$  (ali ekvivalentno)** ..... 2 točki  
**Ugotovitev  $\sphericalangle FES = \sphericalangle BAC + \sphericalangle ACF$  (ali ekvivalentno)** ..... 2 točki  
**Utemeljitev, da je  $EGFS$  tetiven** ..... 1 točka

**B3.** Če je  $a_n \geq 0$  za nek  $n$ , tedaj je  $\frac{a_n^2 + 10a_n}{2a_n + 4} \geq 0$  in zato je tudi  $a_{n+1} \geq 0$ . Ker je  $a_1 = m > 0$ , so torej vsi členi zaporedja  $a_n$  nenegativna cela števila.

Za majhna naravna števila  $m$  izračunamo nekaj členov zaporedja  $a_n$ :

- pri  $m = 1$  dobimo  $1, 1, 1, 1, \dots$ ,
- pri  $m = 2$  dobimo  $2, 3, 3, 3, \dots$ ,
- pri  $m = 3$  dobimo  $3, 3, 3, 3, \dots$ ,
- pri  $m = 4$  dobimo  $4, 4, 4, 4, \dots$ ,
- pri  $m = 5$  dobimo  $5, 5, 5, 5, \dots$ ,
- pri  $m = 6$  dobimo  $6, 6, 6, 6, \dots$ ,
- pri  $m = 7$  dobimo  $7, 6, 6, 6, \dots$ ,
- pri  $m = 8$  dobimo  $8, 7, 6, 6, \dots$ .

Opazimo, da se člen zaporedja na vsakem koraku zmanjša, razen v primeru, ko je enak 2. Zato obravnavamo dve primeri:

1. primer: Recimo, da je  $a_n = 2$  za nek  $n \in \mathbb{N}$ . Potem je  $a_{n+1} = 3$ . Ker je  $\left\lfloor \frac{3^2 + 10 \cdot 3}{2 \cdot 3 + 4} \right\rfloor = \left\lfloor \frac{39}{10} \right\rfloor = 3$ , sledi, da je  $a_k = 3$  za vse  $k \geq n + 1$ . Naloga je v tem primeru dokazana.

2. primer: Recimo, da je  $a_n \neq 2$  za vsak  $n \in \mathbb{N}$ . Dokažimo, da je zaporedje v tem primeru padajoče. Ker so vsi členi zaporedja  $a_n$  cela števila, je pogoj  $a_{n+1} \leq a_n$  ekvivalenten pogoj  $\frac{a_n^2 + 10a_n}{2a_n + 4} < a_n + 1$ . Ta neenakost pa je ekvivalentna neenakosti  $a_n^2 - 4a_n + 4 > 0$  oziroma  $(a_n - 2)^2 > 0$ , kar očitno drži za vsak  $n \in \mathbb{N}$ , saj po predpostavki noben člen zaporedja ni enak 2. Zaporedje  $a_n$  je torej padajoče, njegovi členi pa so nenegativna cela števila (različna od 2), zato mora biti zaporedje od nekega člena naprej konstantno.

**2. način.** Če je  $a_n \geq 1$  za nek  $n$ , tedaj je  $10a_n \geq 2a_n + 4$ , torej je tudi  $a_{n+1} \geq 1$ . Ker je  $a_1 = m \geq 1$ , so torej vsi členi zaporedja  $a_n$  naravna števila. Opazimo, da velja

$$\left\lfloor \frac{1^2 + 10 \cdot 1}{2 \cdot 1 + 4} \right\rfloor = \left\lfloor \frac{11}{6} \right\rfloor = 1, \quad \left\lfloor \frac{2^2 + 10 \cdot 2}{2 \cdot 2 + 4} \right\rfloor = \left\lfloor \frac{24}{8} \right\rfloor = 3, \quad \left\lfloor \frac{3^2 + 10 \cdot 3}{2 \cdot 3 + 4} \right\rfloor = \left\lfloor \frac{39}{10} \right\rfloor = 3,$$

$$\left\lfloor \frac{4^2 + 10 \cdot 4}{2 \cdot 4 + 4} \right\rfloor = \left\lfloor \frac{56}{12} \right\rfloor = 4, \quad \left\lfloor \frac{5^2 + 10 \cdot 5}{2 \cdot 5 + 4} \right\rfloor = \left\lfloor \frac{75}{14} \right\rfloor = 5, \quad \left\lfloor \frac{6^2 + 10 \cdot 6}{2 \cdot 6 + 4} \right\rfloor = \left\lfloor \frac{96}{16} \right\rfloor = 6,$$

$$\left\lfloor \frac{7^2 + 10 \cdot 7}{2 \cdot 7 + 4} \right\rfloor = \left\lfloor \frac{119}{18} \right\rfloor = 6, \quad \left\lfloor \frac{8^2 + 10 \cdot 8}{2 \cdot 8 + 4} \right\rfloor = \left\lfloor \frac{144}{20} \right\rfloor = 7.$$

Iz prvih šestih enakosti sledi, da če je nek člen zaporedja manjši ali enak 6, potem je zaporedje od nekje dalje konstantno (in enako 1, 3, 4, 5 ali 6). Zadnji dve enakosti namigujeta, da če je nek člen zaporedja večji kot 6, potem bo naslednji člen strogo manjši. Pokažimo, da to res velja. Denimo torej, da je  $a_n > 6$  za nek  $n \in \mathbb{N}$ . Pokazati želimo, da je tedaj  $a_{n+1} < a_n$ . Ker so vsi členi

zaporedja naravna števila, je slednja neenakost ekvivalentna neenakosti  $a_{n+1} \leq a_n - 1$ , ta pa neenakosti  $\frac{a_n^2 + 10a_n}{2a_n + 4} < a_n$ . Ko odpravimo ulomke, dobimo  $a_n^2 - 6a_n > 0$  oziroma  $a_n(a_n - 6) > 0$ . Neenakost je izpolnjena, saj je  $a_n$  naravno število in po predpostavki velja  $a_n > 6$ . Od tod sledi, da so za poljuben  $m$  členu zaporedja prej ali slej manjši ali enaki 6, od prej pa že vemo, da je v tem primeru zaporedje od nekega členu naprej konstantno.

**1. način: Utemeljen skelp, da so vsi čelni nenegativni ..... 1 točka**  
**Argument, da če v zaporedju za nek  $i$  velja:  $a_i = 2$ , je zaporedje od naslednjega členu dalje konstanto ..... 1 točka**  
**Zapis neenačbe  $a_{n+1} \leq a_n$  ..... 1 točka**  
**Pravilno razpisane enačbe do  $(a_n - 2)^2 > 0$  ..... 1 točka**  
**Sklep, da je zaporedje padajoče za vse  $a_n$  razen za  $a_n = 2$  ..... 1 točka**  
**Sklep: Ker je zaporedje padajoče in nenegativno bo od nekod dalje konstantno . 2 točki**

**2. način: Utemeljen skelp, da so vsi čelni nenegativni ..... 1 točka**  
**Utemeljena ugotovitev, da če v zaporedju za nek  $i$  velja:  $1 \leq a_i \leq 6$ , je zaporedje konstanto od tega členu naprej ..... 1 točka**  
**Zapis neenačbe  $a_{n+1} < a_n$  ..... 1 točka**  
**Pravilno razpisane enačbe do  $a_n(a_n - 6) > 0$  ..... 1 točka**  
**Skelp, da je zaporedje strogo padajoče za vse  $a_n > 6$  ..... 1 točka**  
**Sklep: za nek dovolj velik  $i$  bo veljalo:  $a_i \leq 6$  iz česar sledi, da bo zaporedje od  $i$ .tega členu dalje konstantno ..... 2 točki**

**Opomba: Če v postopku reševanja ni očitno, da je tudi zaporedje, ki vsebuje 0, od nekod dalje konstantno, ali da zaporedje, ki se začne z naravnim številom, ne more vsebovati členu, ki bi bil 0, se zgubi ena točka.**

**Prav tako se izgubi 1 točka, če nepravilno odparvijo celi del.**